

7. SINIF ÖRNEK SORULAR

TÜRKÇE

1. Çocuk için okuduğu öykünün yazarı yoktur, öykü vardır yalnızca. Dondurma gibi, çikolata, şeker gibi yutulurcasına tutkuyla tüketilen öykü. Yetişkin ise, öyküye bireysel bilgi donanımı, önceki kuşakların deneyimleri, çağının bakışı ve kendi beğenileri ile yaklaşır.

Parçaya göre, çocuk için aşağıdakilerden hangisi söylenebilir?

- A) Yazarları önemseydiği
B) Okuduğu eserleri yorumladığı
C) Bilinçli bir okuyucu olduğu
D) Ayrım yapmadan okuduğu

Öğrenme Alanı : Okuma

Konu : 2. Okuduğu metni anlama ve çözümleme

Kazanımlar : 3. Metnin konusunu belirler.

11. Okuduklarındaki örtülü anlamları bulur.

14. Metne ilişkin sorulara cevap verir.

2. Deniz sevgisi ve saygısı taşıyan herkes, denizi kirletmekle ağaç kesmek arasında bir fark olmadığını bilir. Bu duyguları taşımayanlar ise denizi

Parçanın aşağıdakilerden hangisiyle devam etmesi uygun olmaz?

- A) hazır ve kolay bir çöp tenekesi gibi görür.
B) gördükçe içleri burkularak seyrederek.
C) hiç kirlenmeyecek gibi kullanırlar.
D) öldürdüklerinin farkında bile olamazlar.

Öğrenme Alanı : Okuma

Konu : 2. Okuduğu metni anlama ve çözümleme

Kazanımlar : 5. Metindeki yardımcı fikirleri/duyguları belirler.

25. Metnin öncesi ve/veya sonrasına ait kurgular yapar.

3. Bir toplumun dili dünya görüşünden ayrılamaz. Toplumların kültür değişimlerini inceleyen antropologlar bu bağlantıyı uzun uzun araştırmışlardır. Nitekim Eskimo dili üzerine yaptıkları bir çalışmada; balıkla ilgili birçok sözcükle karşılaştıkları hâlde, savaşla ilgili hiçbir sözcüğe rastlamadıklarından “Eskimolar savaşçı bir toplum değildir.” yargısına ulaşmışlardır.

Bu parçada anlatılmak istenen aşağıdakilerden hangisidir?

- A) Her dilde aynı kavramlar bulunmayabilir.
B) Eskimo dilinde balıklarla ilgili çok sözcük vardır.
C) Toplumun dili ile yaşam biçimi arasında bir ilgi vardır.
D) Eskimo dilinde savaşla ilgili sözcükler yoktur.

Öğrenme Alanı : Okuma

Konu : 2. Okuduğu metni anlama ve çözümleme

Kazanım : 4. Metnin ana fikrini/ana duygusunu belirler.

7. SINIF ÖRNEK SORULAR

4. Aşağıdaki cümlelerin hangisinde, fiili zaman yönünden belirten bir ifade kullanılmıştır?

- A) **Bir gün bu diyardan gidecekti.**
C) Burada bir çağ açılıp kapanmış.

- B) Geçip gitmişti bir ömür.
D) Zamanı durdurmak imkânsız.

Öğrenme Alanı : *Dilbilgisi*

Konular : 1. *Kelime türleriyle ilgili bilgi ve kuralları kavrama ve uygulama*
3. *Fiil kiplerinde zaman ve anlam kaymasıyla ilgili bilgi ve kuralları kavrama ve uygulama*

Kazanımlar : 1.7. *Zarfların cümledeki işlevlerini fark eder, zarfları işlevlerine uygun olarak kullanır.*
3.1 *Cümlede zaman kavramını belirleyen/destekleyen zarfları farkederek.*

5. Aşağıdaki cümlelerin hangisinin sonuna soru işareti konur?

- A) Başkalarının derdine ortak olmak ne güzel
B) Ne söylediğini pek anlayamadım
C) **Ayşegül'e doğum gününde ne alayım**
D) Ne olursa olsun, oraya gidecektin

Öğrenme Alanı : *Yazma*

Konu : 6. *Yazım ve noktalama kurallarını uygulama*

Kazanım : 2. *Noktalama işaretlerini işlevlerine uygun olarak kullanır.*

7. SINIF ÖRNEK SORULAR

MATEMATİK

1. Yandaki tabloda, bir sınıftaki başkan adaylarının aldıkları oy yüzdeleri verilmiştir. Mete, Selin'den 2 oy fazla aldığına göre, Onur Pelin'den kaç oy fazla almıştır?

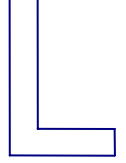
Tablo: Başkan adaylarının aldıkları oy yüzdeleri

Adaylar	Oy Yüzdesi (%)
Pelin	10
Selin	20
Onur	40
Mete	30

- A) 2 B) 4 **C) 6** D) 8

Öğrenme Alanı : Sayılar
Alt Öğrenme Alanı : Oran ve Orantı
Kazanım : Doğru ve ters orantı ile ilgili problemleri çözer ve kurar.

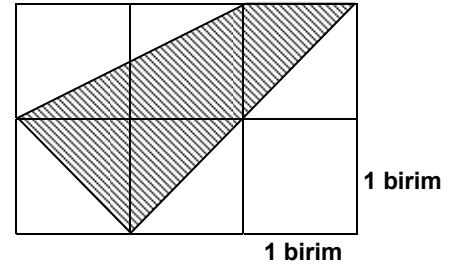
2. Aşağıdakilerden hangisi yandaki şeklin, bulunduğu düzlemde döndürülmüşüdür?



- A) B) C) D)

Öğrenme Alanı : Geometri
Alt Öğrenme Alanı : Dönüşüm Geometrisi
Kazanım : Dönme hareketini açıklar

3. Kareli kâğıt üzerine çizilen şekildeki taralı bölgenin alanı kaç birim karedir?



- A) 2 **B) 2,5** C) 3 D) 3,5

Öğrenme Alanı : Ölçme
Alt Öğrenme Alanı : Dörtgenel Bölgelerin Alanı
Kazanım : Dörtgenel bölgelerin alanlarını strateji kullanarak tahmin eder.

7. SINIF ÖRNEK SORULAR

4. Yandaki tablo Ayşe'nin, haftanın ilk beş gününde bir kitaptan okuduğu sayfa sayılarını göstermektedir. Ayşe cumartesi günü de 40 sayfa okursa, merkezi eğilim ölçülerinin değişimi ile ilgili olarak aşağıdakilerden hangisi doğru olur?

Tablo: Günlere göre okunan sayfa sayıları

Günler	Okunan sayfa sayısı
Pazartesi	72
Salı	70
Çarşamba	80
Perşembe	76
Cuma	82

- A) En fazla aritmetik ortalama değişir.
C) En fazla tepe değeri değişir.

- B) En fazla ortanca değişir.
D) Hepsi eşit miktarda değişir.

Öğrenme Alanı : Merkezi eğilim ve dağılım ölçüleri

Alt Öğrenme Alanı : Olasılık ve istatistik

Kazanım : Verilen merkezi eğilim ölçülerini ve çeyrekler açıklığını yorumlar.

5. Verilen tabloya göre, x ve y değişkenleri arasındaki ilişki aşağıdakilerden hangisiyle ifade edilir?

x	y
4	13
5	16
6	19
7	22

A) $y = x + 9$

B) $y = 5x - 7$

C) $y = 4x - 3$

D) $y = 3x + 1$

Öğrenme Alanı : Cebir

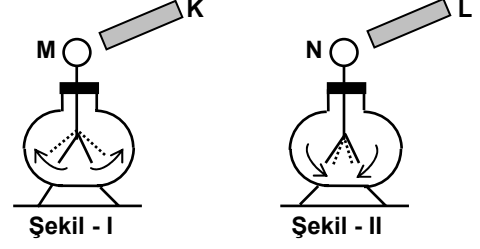
Alt Öğrenme Alanı : Denklemler

Kazanım : İki değişken arasındaki doğrusal ilişkiyi tablo ve grafik kullanarak inceler, bir değişkenin diğerine bağlı olarak nasıl değiştiğini açıklar.

7. SINIF ÖRNEK SORULAR

FEN ve TEKNOLOJİ

1. Şekil - I'deki K cismi M elektroskopuna yaklaştırıldığında M'nin yaprakları biraz açılıyor. Şekil - II'de L cismi N elektroskopuna yaklaştırıldığında ise N'nin yaprakları biraz kapanıyor. Buna göre K, L, M ve N'nin yükleri aşağıdakilerden hangisi olamaz?



	K	L	M	N
A)	-	-	+	-
B)	+	-	+	+
C)	-	+	-	-
D)	+	+	+	-

Ünite : Yaşamımızda elektrik
Kazanım : 1.9 Elektroskopun ne işe yaradığını, tasarladığı bir araç üzerinde gösterir.
1.11 Cisimlerin birbirine dokundurulmadan etki ile elektriklenerek zıt yükle yüklenebileceğini deneyerek keşfeder.

2. Aşağıdaki ifadelerden hangileri doğrudur?

I- Potansiyel enerji, kinetik enerjiye dönüşebilir.
II- Sürtünme kuvvetinden dolayı basit makinelerde yüzde yüz verim sağlanamaz.
III- Basit makineler enerji tasarrufu sağlarlar.

- A) Yalnız I B) Yalnız III C) I ve II D) II ve III

Ünite : Kuvvet ve hareket
Kazanım : 2.12 Potansiyel ve kinetik enerjilerin birbirine dönüşebileceğini örneklerle açıklar.
3.4 Bir işi yaparken basit makine kullanmanın enerji tasarrufu sağlamayacağını, sadece iş yapma kolaylığı sağlayacağını belirtir.
4.3 Kinetik enerjideki azalmayı enerji dönüşümü ile açıklar.

3. Aşağıda bazı sembol ve formüller çizelgede numaralandırılarak verilmiştir. Çizelgedeki numaralandırılmış kutucuklardan hangileri çok atomlu iyonudur?

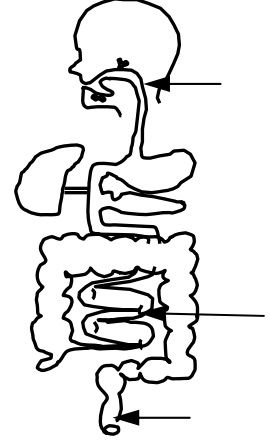
1 K ⁺	2 O ²⁻	3 NH ₄ ⁺
4 He	5 PO ₄ ³⁻	6 CO ₂

- A) 3 ve 5 B) 1 ve 3 C) 3, 5 ve 6 D) 1, 2 ve 4

Öğrenme Alanı : Madde ve Değişim
Ünite : Maddenin Yapısı ve Özellikleri
Kazanım : 3.4. Atomların elektron verdiği pozitif (+), elektron aldığı ise negatif (-) yük ile yüklendiği çıkarımını yapar.
3.5. Yüklü atomları iyon olarak adlandırır.
3.6. Pozitif yüklü iyonları katyon negatif yüklü iyonları ise anyon olarak adlandırır.
3.7. Çok atomlu yaygın iyonların ad ve formüllerini bilir.

7. SINIF ÖRNEK SORULAR

4. Şekilde sindirim sisteminin bazı yapı ve organları okla gösterilmiştir. Aşağıda verilen olaylardan hangisi okla gösterilen yapı ve organlardan birinin görevi değildir?



- A) Atık maddelerin vücuttan uzaklaştırılması
B) Besinlerin ağızdan yemek borusuna iletilmesi
C) **Besinlerin bulamaç hâline getirilmesi**
D) Besinlerin kana geçirilmesi

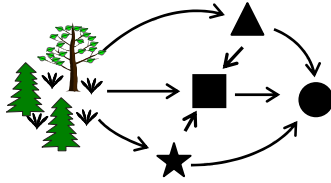
Öğrenme Alanı : Canlılar ve Hayat

Ünite : Vücudumuzda sistemler

Kazanım

- : 1.1. Sindirim sistemini oluşturan yapı ve organları; model, levha ve/veya şema üzerinde gösterir. (FTTÇ-4). Bilimsel bilginin oluşturulmasında başkalarına açıklamak amacıyla sunumunda modellerden yararlanmanın yeri ve önemini bilir.
1.2. Besinlerin vücuda yararlı hale gelmesi için değişme uğraması gerektiğini tahmin eder.
1.3. Besinlerin kana geçebilmesi için mekanik ve kimyasal sindirime uğraması gerektiğini belirtir.
1.6. Sindirime uğrayan besinlerin kana geçişini açıklar.

5.



Hem ot hem de et yiyen bir canlı yukarıdaki besin ağında hangi şekille gösterilmiştir?

- A) ▲ B) ■ C) ★ D) ●

Öğrenme Alanı : Canlılar ve Hayat

Ünite : İnsan ve çevre

Kazanım

- : 1.2. Bir ekosistemdeki canlı organizmaların birbirleriyle ve cansız faktörlerle ilişkilerini açıklar. (BSB-27) Gözlem ve ölçüm sonucunda elde edilen araştırmanın amacına uygun verileri yazılı ifade, resim, tablo ve çizim gibi çeşitli yöntemlerle kaydeder.
30. İşlenen verileri ve oluşturulan modeli yorumlar.
31. Elde edilen bulgulardan desen ve ilişkilere ulaşır.

7. SINIF ÖRNEK SORULAR

SOSYAL BİLGİLER

1. Osmanlıların, fethettikleri şehirlerde farklı dinlere ait mimari eserlerin varlığını devam ettirmesi aşağıdakilerden hangisine kanıt olarak gösterilebilir?

- A) Diğer inançlara hoşgörü ile yaklaştıklarına
B) Mimari eserlere önem verdiklerine
C) Farklı dinleri tanımak istediklerine
D) Kendi kültürel değerlerini kabul ettirmek istediklerine

Öğrenme Alanı : *Kültür ve miras*

Ünite : *Türk tarihinde Yolculuk*

Kazanım : *4 (Osmanlı toplumunda hoşgörü ve birlikte yaşama fikrinin önemine dayalı kanıtlar gösterir.)*

2. Osmanlı Devleti'nde yapılan aşağıdaki yeniliklerden hangisinin veya hangilerinin Batı'yı daha yakından tanımak amacıyla yapıldığı savunulabilir?

- I- Yeniçerilerden bir itfaiye bölüğünün oluşturulması
II- Avrupa başkentlerine elçiler gönderilmesi
III- İstanbul'da kumaş ve çini fabrikalarının kurulması
IV- Sağlık alanında ilk kez çiçek aşısının uygulanması

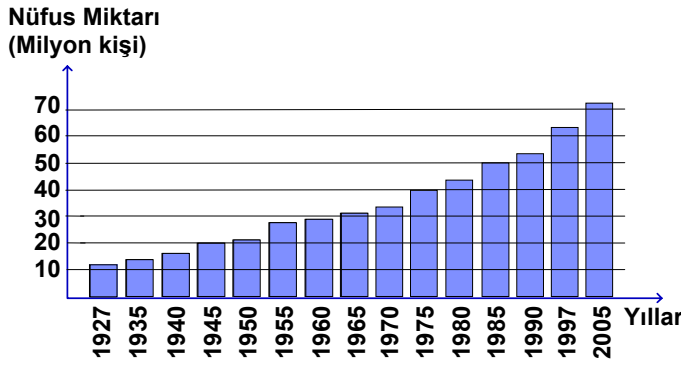
- A) Yalnız I B) Yalnız II C) II ve III D) III ve IV

Öğrenme Alanı : *Kültür ve Miras*

Ünite : *Türk Tarihinde Yolculuk*

Kazanım : *6. Osmanlı - Avrupa ilişkileri çerçevesinde kültür, sanat ve estetik anlayışındaki etkileşimi fark eder.*

- 3.



Yukarıda sayım yıllarına göre Türkiye nüfus grafiği verilmiştir. Bu grafiğe göre aşağıdakilerden hangisi söylenemez?

- A) Her on yılda bir nüfus sayımı yapılmıştır.
B) 1985 yılında Türkiye nüfusu elli milyondur.
C) 1975 - 1985 yılları arasında nüfus on milyon artmıştır.
D) Nüfus artışı 1950 yılından sonra hızlanmıştır.

Öğrenme Alanı : *İnsanlar, Yerler ve Çevreler*

Ünite : *Ülkemizde nüfus*

Kazanım : *2 (Tablo ve verilerden yararlanarak ülkemiz nüfusunun özellikleriyle ilgili verileri yorumlar)*

7. SINIF ÖRNEK SORULAR

4. Aşağıdakilerden hangisi bireyler arasında iletişim kurarken dikkat edilmesi gerekenlerden biri değildir?

- A) Başkalarının görüşlerine saygılı olmak
- B) Konuşurken karşısındakine gülmek**
- C) Ne zaman susmak gerektiğini bilmek
- D) Karşısındakini dikkatle dinlemek

Öğrenme Alanı : *Birey ve Toplum*

Ünite : *İletişim ve insan ilişkileri*

Kazanım : *1. İletimi, olumlu olumsuz etkileyen tutum ve davranışları fark ederek kendi tutum ve davranışlarıyla karşılaştırır.*

5. “Ant olsun, senden önce de peygamberler gönderdik. Onlara eşler ve çocuklar verdik. Allah’ın izni olmadan hiçbir peygamber bir mucize getiremez...” (Ra’d suresi 13. ayet)

Bu ayetten yola çıkarak aşağıdakilerden hangisi ileri sürülemez?

- A) Hz. Muhammed’den önce de peygamber gönderildiği
- B) Peygamberlerin tanrısal niteliklere sahip olduğu**
- C) Peygamberlerin ancak Allah’ın izni ile mucize gösterebileceği
- D) Peygamberlerin diğer insanlar gibi bir ailesinin olduğu

Öğrenme Alanı : *Hz. Muhammed*

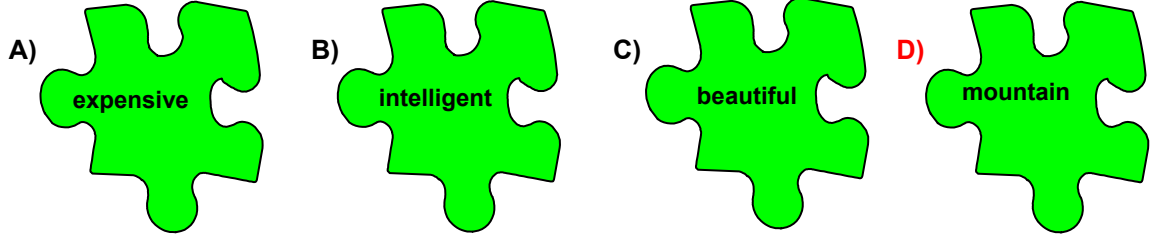
Ünite : *Bir insan ve peygamber olarak Hz. Muhammed*

Kazanım : *1. Hz. Muhammed’in bizler gibi bir insan olduğunu ayetlerden örnekler vererek açıklar.*

7. SINIF ÖRNEK SORULAR

İNGİLİZCE

1. Aşağıda verilen kelimelerden hangisi yapı bakımından diğerlerinden farklıdır?



Ünite : 3
Kazanım : Vocabulary (Adjectives)

2. Aşağıdaki konuşma balonunda boş bırakılan yere uygun gelen seçeneği işaretleyiniz.



- A) It's 20 YTL B) It's red C) It's small D) It's old


Ünite : 3
Kazanım :Function (Asking & Answering for quantity)

7. SINIF ÖRNEK SORULAR

3. Aşağıda verilen ifadeye göre doğru resmin bulunduğu seçeneği işaretleyiniz.

“Jane and Tim are at the school now.”

A)




B)



C)



D)



Ünite : 3
Kazanım : Vocabulary (Places)

4. Aşağıda verilen resme göre cümleyi tamamlayan seçeneği işaretleyiniz.

“Robert isn’t coming to the party because



- A) he is tidying his room.
- B) he is studying for the exam.**
- C) he is helping his mother.
- D) he is going to the cinema.

Ünite : 1
Kazanım : Reading

7. SINIF ÖRNEK SORULAR

5. Aşağıdaki eylemlerin yapıış sırası hangi seçenekte doğru olarak verilmiştir?

I- I have breakfast.

II- I get up at 7:30 in the morning.

III- I brush my teeth.

IV- I go to school.

A) IV - I - III - II

B) II - IV - I - III

C) II - I - III - IV

D) I - IV - II - III

Ünite : 1

Kazanım : Reading

7. SINIF ÖRNEK SORULAR

ALMANCA

1 – 3 sorularda boş bırakılan yerlere uygun düşen sözcük ya da ifadeyi işaretleyiniz.

1. Regal sind Bücher.



A) an dem

B) auf dem

C) an der

D) in dem

Ünite : 1

Kazanım : "auf, an, in" präposition cümle içinde kullanır.

2. Meine Katze irgendwo

A) sind / weggelaufen

B) bin / gefunden

C) ist / weggelaufen

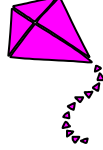
D) bist / gelaufen

Ünite : 2

Kazanım : Filleri geçmiş zaman hâliyle cümle içinde kullanır.

3.

Hast du einen Drachen?



Nein, ich habe



A) einen

B) keinen

C) eine


D) keine

Ünite : 3

Kazanım : Negation (Ja, Nein-kein)

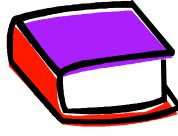
7. SINIF ÖRNEK SORULAR

4. Aşağıda verilen sorularda anlam bakımından diziye uymayan sözcüğü bulunuz.



der Apfel

B)



Das Buch

C)



die Traube

D)



die Banane

Ünite : 6

Kazanım : Wortfeld (meyveler)

5. Aşağıda resme göre cümleyi tamamlayan seçeneği işaretleyiniz.



Van liegt im

Sinop liegt im

A) Osten / Norden

B) Süden / Westen

C) Norden / Westen

D) Süden / Osten

Ünite : 6

Kazanım : Wortfeld (Hava durumu, yönler)

7. SINIF ÖRNEK SORULAR

FRANSIZCA

1. ve 2. soruları aşağıda verilen metne göre cevaplayınız.

Ahmet veut jouer au foot avec ses amis mais il a des examens demain et il doit travailler. Sa mère préfère aller au marché mais elle a un rendez - vous avec le dentiste à l'hôpital.

1. Pourquoi Ahmet ne peut pas jouer au foot?

- A) Parce qu'il a un rendez - vous.
C) **Parce qu'il a des examens.**

- B) Parce qu'il est malade.
D) Parce qu'il veut aller au marché.

Ünite : 1
Kazanım : *Pourquoi - Parce que*

2. Pourquoi la mère d'Ahmet doit aller à l'hôpital?

- A) Parce qu'elle veut faire des courses.
B) **Parce qu'elle a un rendez - vous avec le dentiste.**
C) Parce qu'elle a mal la tête.
D) Parce qu'elle préfère aller au marché.

Ünite : 1
Kazanım : *Pourquoi - Parce que*

3., 4. ve 5. sorularda boş bırakılan yerlere uygun düşen seçeneği işaretleyiniz.

3. Je allé à Çeşme et j'..... passé un bon week - end.

- A) ai / suis B) **suis / ai** C) es / as D) est / ont

Ünite : 2
Kazanım : *Situer les événements dans le passé.*

4. Nous sommes au restaurant et on a du poisson.

- A) allé / mangé B) allé / mangés C) allées / mangées D) **allés / mangé**

Ünite : 2
Kazanım : *Situer les événements dans le passé.*

5. L'avion est rapide le train.

- A) moins que B) autantque C) **plusque** D) aussi que

Ünite : 5
Kazanım : *Comparatifs*